

6ème-Angles-noms-nature

Question 1 Instruction démarrage

/ 1

Vous allez démarrer le QCM

Bien VALIDER chaque réponse afin de savoir si vous avez fait juste ou faux

La notation des angles se fera avec le ^

L'angle ABC se notera \widehat{ABC}

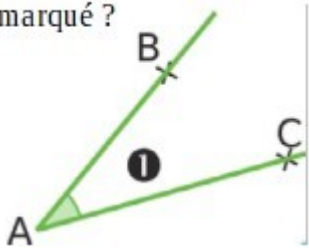
Avez-vous compris ?

- Non je n'ai pas compris
- Oui j'ai compris

Question 2 Nom angle

/ 1

Comment se nomme l'angle
marqué ?

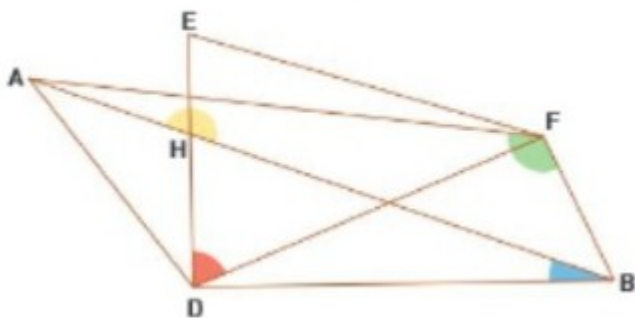


- \widehat{BAC}
- \widehat{ACB}
- \widehat{ABC}

Question 3 Nom d'angles - couleur

/ 1

Associer chaque couleur d'angle à son nom



Angle rouge
Angle jaune
Angle vert
Angle bleu

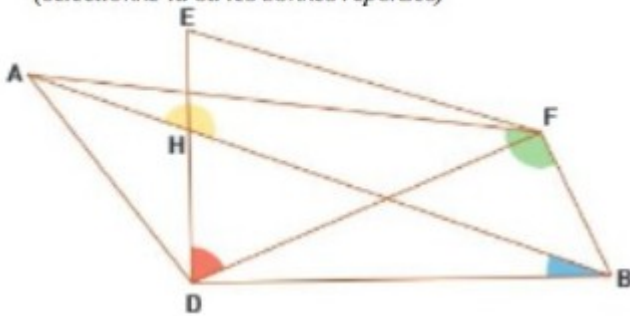
\widehat{AFB}
 \widehat{HBD}
 \widehat{HDF}
 \widehat{AHB}

6ème-Angles-noms-nature

Question 4 Nom d'un angle

/ 1

L'angle en rouge se nomme :
(sélectionne la ou les bonnes réponses)



- $\angle EDH$
 $\angle DBF$
 $\angle HDF$
 $\angle DFE$

Question 5 Vocabulaire angle

/ 1

Associer le vocabulaire

Le sommet de l'angle $\angle DEF$ estLe sommet de l'angle $\angle FDE$ estUn côté de l'angle $\angle DEF$ estUn côté de l'angle $\angle FDE$ est

[ED)

le point E

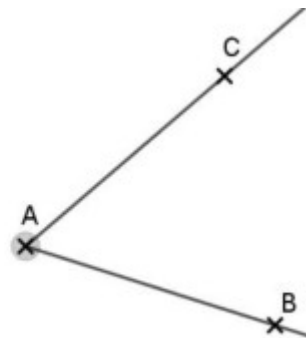
le point D

[DE)

Question 6 Nature de l'angle - définition

/ 1

Quel est la nature
de l'angle ?

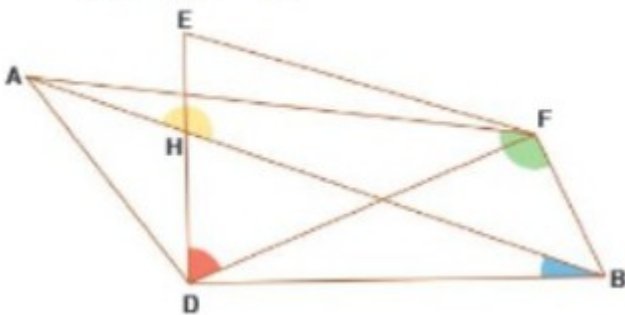


- A $\angle BAC$
 B aigu
 C obtus
 D $\angle ABC$
- B
 D
 C
 A

6ème-Angles-noms-nature

Question 7 Nature d'un angle

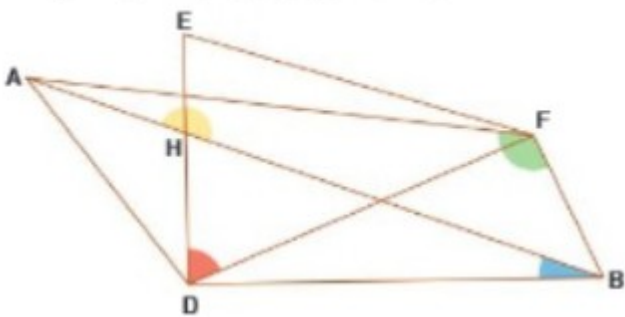
/ 1

L'angle **plat** est :

- bleu
 vert
 rouge
 jaune

Question 8 Nature d'un angle

/ 1

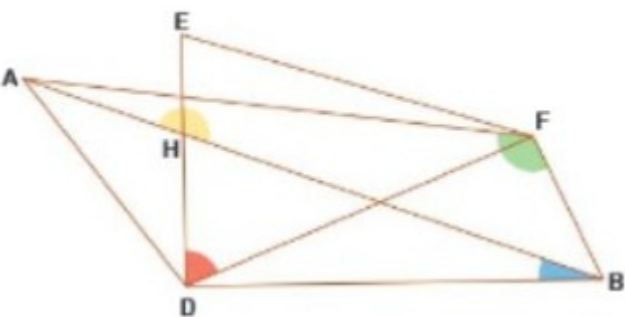
L'angle ou (les angles) **aigu(s)** est (sont) :

- Angle rouge
 Angle vert
 Angle bleu
 Angle jaune

Question 9 Nature angle

/ 1

L'angle ou (les angles) obtus est (sont) :



- \widehat{AFB}
 \widehat{DBH}
 \widehat{AHB}
 \widehat{EDF}

6ème-Angles-noms-nature

Question 10 Nature et valeur de l'angle

/ 1

Associe la nature de l'angle avec sa mesure

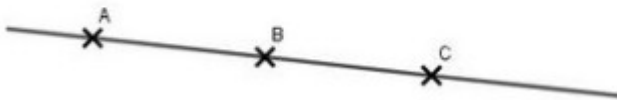
Un angle de 180° est
 un angle de 90° est
 un angle de 32° est
 un angle de 145° est

un angle obtus
 un angle droit
 un angle plat
 un angle aigu

Question 11 Vrai ou Faux

/ 1

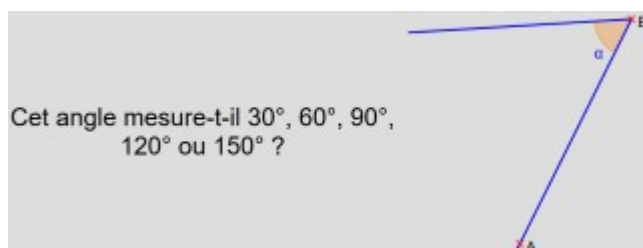
L'angle \widehat{ABC} est plat et égale à 0°
 vrai ou faux ?



- Faux
 Vrai

Question 12 Estimation angle

/ 1



- 60°
 30°
 90°
 120°
 150°

Question 13 Estimation angle

/ 1



- 120°
 30°
 90°
 150°
 60°

6ème-Angles-noms-nature

Question 14 Estimation angle

/ 1

Cet angle mesure-t-il 30° , 60° , 90° ,
 120° ou 150° ?

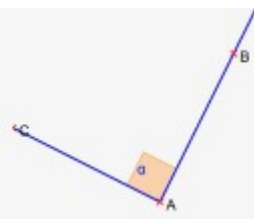


- 60°
 90°
 30°
 120°

Question 15 Estimation angle

/ 1

Cet angle mesure-t-il 30° , 60° , 90° ,
 120° ou 150° ?

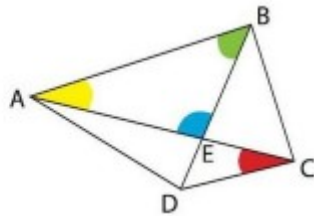


- 150°
 30°
 90°
 120°
 60°

Question 16 Estimation

/ 1

Dans cette figure,
l'angle marqué en
bleu mesure
environ :



- 180°
 100°
 80°
 90°